



6-7 वर्ष | आठवडा 4

भूगोल - भारत संकल्पना

1. भारताबद्दल

2. राज्य चिन्ह - चिन्हे

3. भारत आणि राज्य चिन्ह

4. वेगळे एक पार करा - राज्यांची नावे

5. वेगळे एक पार करा - राज्यांची नावे

6. वेगळे एक पार करा - राज्यांची नावे

7. वेगळे एक पार करा - राज्यांची नावे

8. वेगळे एक पार करा - राज्यांची नावे

9. वेगळे एक पार करा - राज्यांची नावे

10. वेगळे एक पार करा - राज्यांची नावे

11. भारत - राज्यांचे प्राणी

12. भारत - भाषा

13. भारत - महात्मा गांधी

14. भारताचा नकाशा आणि राज्यांची नावे

15. भारताचा नकाशा आणि राज्यांची नावे

16. भारताचे राज्य नकाशे

17. भारताचे राज्य नकाशे

18. भारताचा राज्य आणि केंद्रशासित प्रदेश नकाशा

19. भारत - शेजारी देश

20. भारत - गेटवे ऑफ इंडिया



भारता बद्दल माहिती

- क्षेत्रफळानुसार भारतातील सर्वात मोठे राज्य कोणते?
- क्षेत्रफळानुसार भारतातील सर्वात लहान राज्य कोणते?
- भारतातील मुख्य नद्या कोणत्या?
- भारतातील सर्वात मोठे विमानतळ कोणते?
- भारतातील सर्वात लहान विमानतळ कोणते?
- मुंबई मधील आंतरराष्ट्रीय विमानतळाचे नाव काय?
- भारतातील सर्वात उंच शिखराचे नाव सांगा.
- भारतातील फुलाच्या आकाराच्या मंदिराचे नाव काय?
- भारतातील सुर्यापासून प्रेरणा घेतलेल्या मंदिराचे नाव काय?
- भारताच्या मुख्य गुफांची नावे सांगा.
- कोणत्या शहराला संत्र्यांचे शहर म्हणुन ओळखले जाते?
- भारताचे पंतप्रधान स्वातंत्र्यदिनी झेंडा कुठे फडकवतात?
- भारतातील सर्वात उत्तरेकडील शहराचे नाव काय?
- भारतातील सर्वात दक्षिणेकडील शहराचे नाव काय?

राज्याचे चिन्ह - प्रतीक



सूचना:

1. चौकटीखाली दिलेल्या सूचना पाळून कार्य पूर्ण करा.
2. तुम्ही संदर्भ पत्रिकेचा वापर करून राज्यांचे चिन्ह कापून येथे चिकटवा.

--	--	--

राज्यचिन्हे ज्यात निळा रंग वापरला आहे

--	--	--

राज्यचिन्हे ज्यात झाडांच्या चित्राचा वापर केला आहे

--	--	--

राज्यचिन्हे ज्यात हिरवा रंग वापरला आहे

--	--	--

राज्यचिन्हे ज्यात काळा रंग वापरला आहे

--	--	--

राज्यचिन्हे ज्यात पहाडाच्या चित्राचा वापर केला आहे



भारत, राज्य व केंद्रशासित प्रदेशांचे प्रतीक

खालील चित्रे कापून तुम्ही त्यांना बाकी क्रियापत्रकांमध्ये वापरू शकता.



भारताचे प्रतीक



बिहार चे प्रतीक



हरियाणा चे प्रतीक



केरळ चे प्रतीक



शिलाँग चे प्रतीक



पंजाब चे प्रतीक



तेलंगणा चे प्रतीक



पश्चिम बंगाल चे प्रतीक



आंध्र प्रदेश चे प्रतीक



छत्तीसगढ चे प्रतीक



हिमाचल प्रदेश चे प्रतीक



मध्य प्रदेश चे प्रतीक



मिझोराम चे प्रतीक



राजस्थान चे प्रतीक



झारखंड चे प्रतीक



दिल्ली चे प्रतीक



अरुणाचल प्रदेश चे प्रतीक



गोव्याचे प्रतीक



झारखंड चे प्रतीक



महाराष्ट्र चे प्रतीक



नागालँड चे प्रतीक



सिक्कीम चे प्रतीक



उत्तर प्रदेश चे प्रतीक



जम्मू व काश्मीर चे प्रतीक



आसाम चे प्रतीक



गुजरात चे प्रतीक



कर्नाटक चे प्रतीक



मणिपूर चे प्रतीक



उडीसा चे प्रतीक



तामिळनाडू चे प्रतीक



उत्तराखंड चे प्रतीक



चंदिगढ चे प्रतीक



गटात नसणाऱ्यास क्रॉस करा




मिनी राज्याचे नाव म्हणते. तिला कार्तार, सॅम, सॅली आणि रहमान यांनी त्या राज्याच्या राजधानीचे नाव सांगावे अशी इच्छा आहे. भोलू यांना राज्याच्या राजधानीचे योग्य नाव कोणी सांगितले आहे ते शोधायचे आहे. ज्याने राजधानीचे नाव योग्य सांगितले आहे त्याच्या चित्रावर टिक (✓) चिन्ह करण्यास त्याला मदत करा.



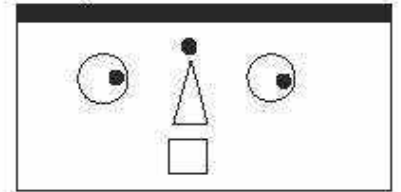
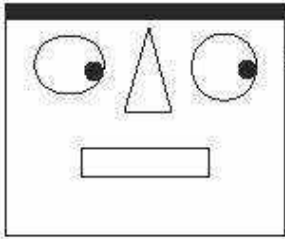
Rajasthan

Delhi



Jaipur

Srinagar



Mumbai

?





गटात नसणाऱ्यास क्रॉस करा



सॅम एका राज्याचे नाव म्हणतो. त्याला कार्तार, भोलू, सल्ली आणि रहमान यांनी त्या राज्याच्या राजधानीचे नाव सांगावे अशी त्यांची इच्छा आहे. राज्याच्या राजधानीचे योग्य नाव कोणी सांगितले आहे हे मिनीला शोधायचे आहे.

ज्याने राजधानीचे नाव योग्य सांगितले आहे त्याच्या चित्रावर टिक (✓) चिन्ह लावून तिला मदत करा.



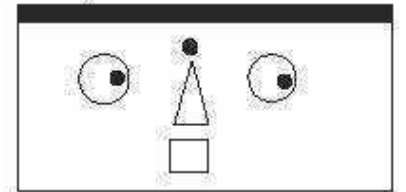
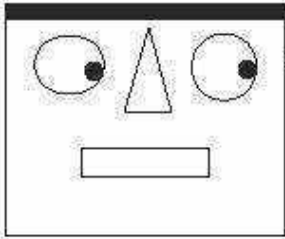
Maharashtra

Gandhinagar




Mumbai

Lucknow



Hyderabad

?





गटात नसणाऱ्यास क्रॉस करा




कर्तार एक राज्याचे नाव सांगतो . मिनी, सॅम, सॅली आणि रहमान यांना त्या राज्याच्या राजधानीचे नाव सांगावे अशी त्याची इच्छा आहे. भोलू यांना राज्याच्या राजधानीचे योग्य नाव कोणी सांगितले आहे ते शोधायचे आहे. ज्याने राजधानीचे नाव योग्य सांगितले आहे त्याच्या चित्रावर टिक (✓) चिन्ह लावून त्याला मदत करा.



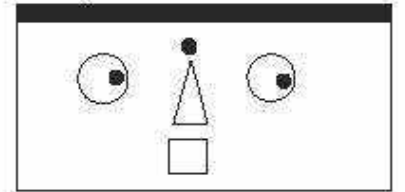
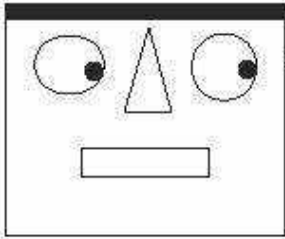
Gujarat

Dispur



Bengaluru

Gandhinagar



Patna

?





गटात नसणाऱ्यास क्रॉस करा

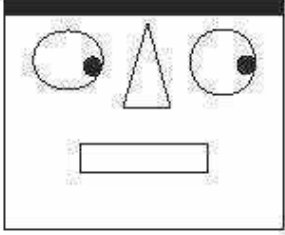


रहमान एका राज्याचे नाव म्हणतो . त्याला कर्तार, सॅम, सॅली आणि भोलू यांनी त्या राज्याच्या राजधानीचे नाव सांगावे अशी त्यांची इच्छा आहे. राज्याच्या राजधानीचे योग्य नाव कोणी सांगितले आहे हे मिनीला शोधायचे आहे. ज्याने राजधानीचे नाव योग्य सांगितले आहे त्याच्या चित्रावर टिक (✓) चिन्ह लावून तिला मदत करा.



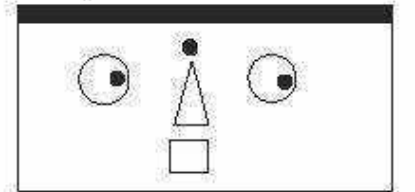
Assam

Bhopal




Patna

Dispur



Chandigarh

?





गटात नसणाऱ्यास क्रॉस करा

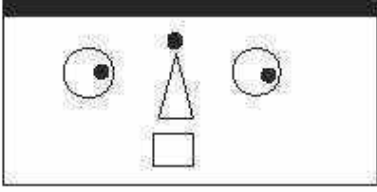


सॅली एका राज्याचे नाव सांगते. तिला कर्तार, सॅम, भोलू आणि रहमान यांनी त्या राज्याच्या राजधानीचे नाव सांगावे असे वाटते. राज्याच्या राजधानीचे योग्य नाव कोणी सांगितले आहे हे मिनीला शोधायचे आहे. ज्याने राजधानीचे नाव योग्य सांगितले आहे त्याच्या चित्रावर टिक (✓) चिन्ह लावून तिला मदत करा.



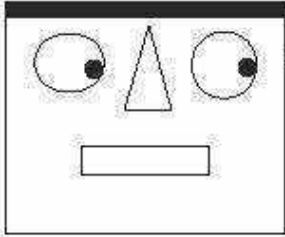
Bihar

Gangtok




Hyderabad

Chennai



Patna

?





गटात नसणाऱ्यास क्रॉस करा




भोलू एका राज्याचे नाव म्हणतो. त्याला कार्तार, सॅम, सॅली आणि रहमान यांनी त्या राज्याच्या राजधानीचे नाव सांगावे अशी त्यांची इच्छा आहे. राज्याच्या राजधानीचे योग्य नाव कोणी सांगितले आहे हे मिनीला शोधायचे आहे. ज्याने राजधानीचे नाव योग्य सांगितले आहे त्याच्या चित्रावर टिक (✓) चिन्ह लावून तिला मदत करा.



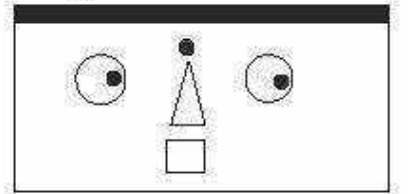
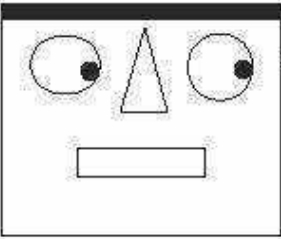
Uttar Pradesh

Kolkata




Dehradun

Shimla



Lucknow

?





गटात नसणाऱ्यास क्रॉस करा



मिनी एका राज्याचे नाव म्हणते. तिला कार्तार, सॅम, सॅली आणि रहमान यांनी त्या राज्याच्या राजधानीचे नाव सांगावे अशी इच्छा आहे. भोलू यांना राज्याच्या राजधानीचे योग्य नाव कोणी सांगितले आहे ते शोधायचे आहे. ज्याने राजधानीचे नाव योग्य सांगितले आहे त्याच्या चित्रावर टिक (✓) चिन्ह लावून त्याला मदत करा.



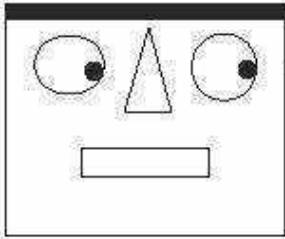
West Bengal

Shimla

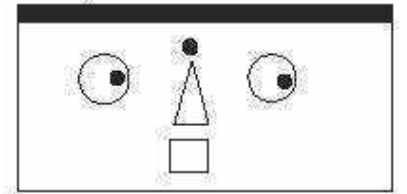


Srinagar

Kolkata



Lucknow



?



भारत: राज्यांमधील प्राणी



कुठल्या राज्यात कुठले प्राणी आढळतात, ते पाहू या. प्रत्येक प्राण्यासाठी वेगवेगळे असे चार क्रेयॉन्स किंवा पेन्सिल घ्या आणि त्यांना त्यांच्या राज्याप्रमाणे जोडा. उदाहरणादाखल एक जोडी दिली आहे, ती पाहा.



आशियातील सिंह
(गुजरात)



एकशिंगी गेंडा
(असम)



काळवीट
(आंध्र प्रदेश)



हिमबिबट्या
(हिमाचल प्रदेश)

भारत: भाषा - शब्दशोध



चला, ग्रिडमध्ये विविध भारतीय भाषा शोधू या. तुम्ही त्या आडव्या, उभ्या किंवा तिरप्या रेषेत शोधू शकता आणि तुमच्या आवडीच्या रंगाने रंगवू शकता.

q	w	x	c	x	t	s	g	h	t	h	j	j	s	g	s	f
u	h	i	n	d	i	i	f	g	b	e	n	g	a	l	i	s
r	a	d	x	a	b	h	h	n	f	h	h	j	h	j	k	d
g	o	o	d	a	v	n	j	k	w	a	o	l	d	g	e	d
d	f	w	j	s	d	d	s	n	j	p	a	j	r	f	s	d
f	d	n	d	a	v	n	x	m	s	a	s	r	p	t	c	v
a	u	q	w	e	R	t	y	a	d	s	t	f	s	u	i	c
p	a	s	d	f	g	h	j	r	d	d	a	s	d	a	r	a
a	s	t	a	m	i	l	k	a	s	f	m	s	f	w	z	i
q	a	e	d	h	n	e	n	t	j	s	x	y	j	k	n	m
a	s	l	f	g	g	f	m	h	d	k	a	n	n	a	d	a
z	x	e	w	d	a	d	f	i	d	s	h	f	r	k	z	a
v	t	g	d	a	v	n	x	m	s	a	s	r	p	t	c	j
u	s	u	v	b	n	m	k	g	g	u	j	r	a	t	i	y

Bengali
Bhojpuri
Gujarati


Tamil
Telegu
Punjabi

Hindi
Marathi
Kannada

भारत: महात्मा गांधी



महात्मा गांधी : आपले राष्ट्रपिता. पेन्सिलीने रेखा गिरवून त्यांचे चित्र पूर्ण करा आणि रंगवा.





भारताचा नकाशा व राज्यांची नावे

राज्यांची व केंद्रशासीत प्रदेशांची नावे त्यांच्या राजधानी सोबत लिहा. प्रत्येक राज्याच्या एका प्रसिद्ध स्मारकाचे चित्र काढा.





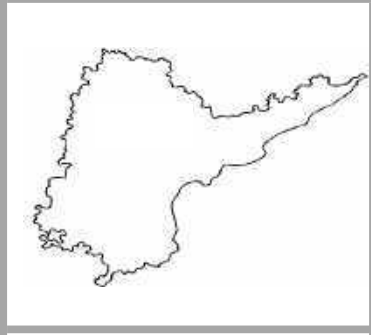
INDIA MAP & STATE NAMES



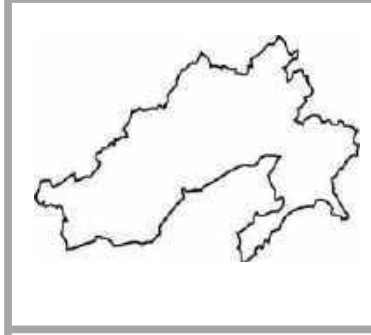


भारतातील राज्यांचे नकाशे

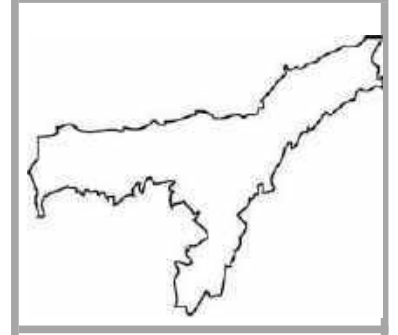
खालील चित्रे कापून तुम्ही त्यांना बाकी क्रियापत्रांमध्ये वापरू शकता.



आंध्र प्रदेश



अरुणाचल प्रदेश



आसाम



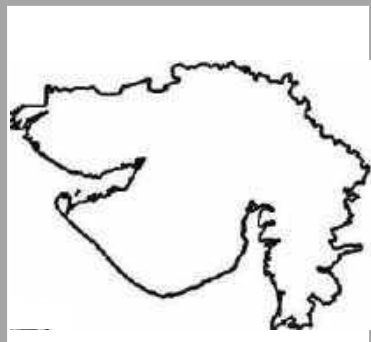
बिहार



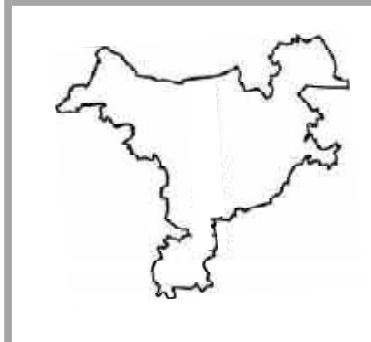
छत्तीसगढ



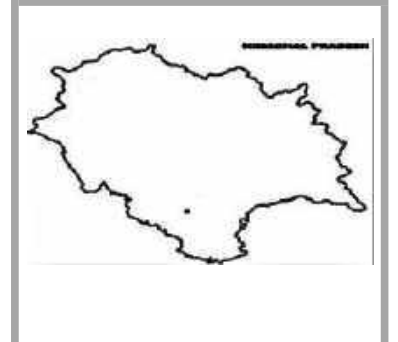
गोवा



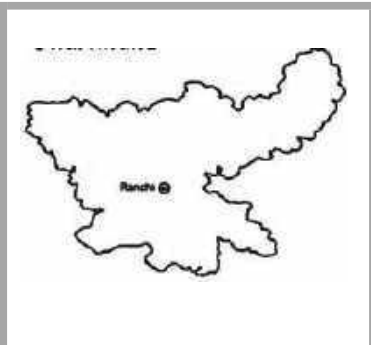
गुजरात



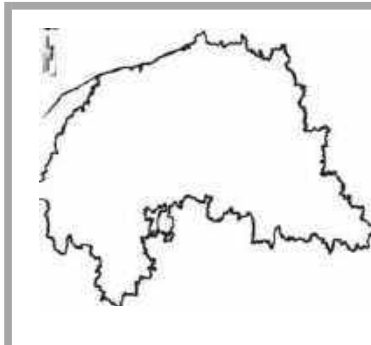
हरियाणा



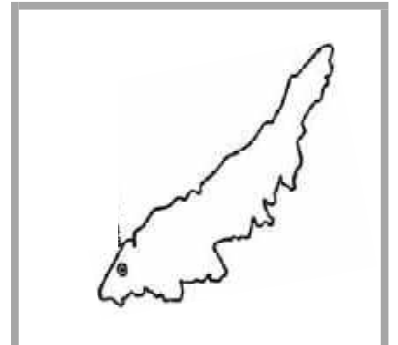
हिमाचल प्रदेश



झारखंड



कर्नाटक

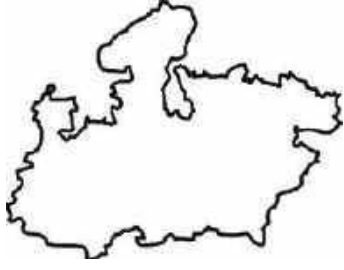


केरळ



भारतातील राज्यांचे नकाशे

खालील चित्रे कापून तुम्ही त्यांना बाकी क्रियापत्रकांमध्ये वापरू शकता.



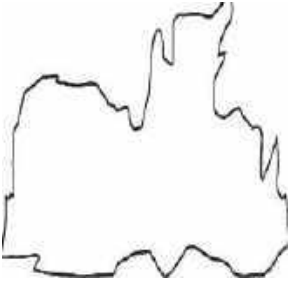
मध्य प्रदेश



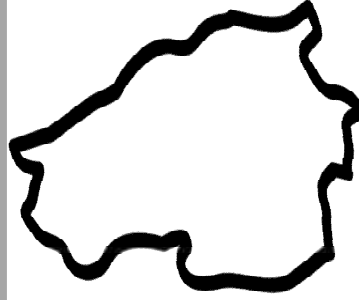
महाराष्ट्र



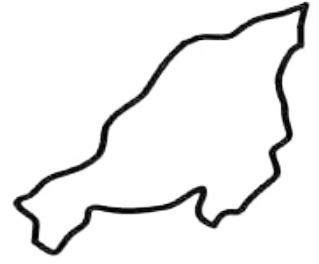
मणिपूर



मेघालय



मिझोराम



नागालँड



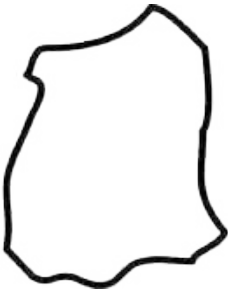
उडीसा



पंजाब



राजस्थान



सिक्कीम



तामिळनाडू




तेलंगणा

भारतातील राज्यांचे, केंद्रशासित प्रदेशांचे नकाशे



खालील चित्रे कापून तुम्ही त्यांना बाकी क्रियापत्रांमध्ये वापरू शकता.



त्रिपुरा



उत्तर प्रदेश



उत्तराखंड



पश्चिम बंगाल



लडाख




अंदमान व निकोबार बेट



चंदिगढ



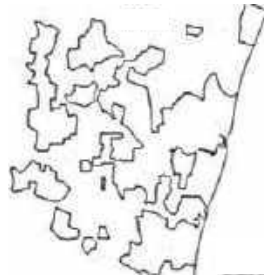
दादरा व नगर हवेली आणि
दिऊ दमण



दिल्ली



जम्मू आणि काश्मीर



पुदुचेरी



लक्षद्वीप

भारत: शेजारी देश



चला, भारताच्या शेजारी कोणकोणते देश आहेत ते पाहू या. आपल्या शेजारचे देश त्यांच्या भौगोलिक स्थानानुसार भारताशी जोडा.

भारताच्या उत्तरेकडील देश



बांग्लादेश

भारताच्या दक्षिणेकडील देश



पाकिस्तान

भारताच्या पूर्वेकडील देश



नेपाळ

भारताच्या पश्चिमेकडील देश



श्रीलंका

भारत: गेटवे ऑफ इंडिया



गेटवे ऑफ इंडियाचे चित्र काढा आणि रंगवा. हे चित्र पाहून त्यानुसार चित्र काढा.

