



# 10-11 वर्ष | सप्ताह 04

## भूगोल - अवधारणाएँ

---

1. देशों के राष्ट्रीय ध्वज

---

2. भू विज्ञान- निर्देशांक प्रणाली

---

3. भू विज्ञान- पृथ्वी का ढाँचा

---

4. भू विज्ञान- समयक्षेत्र

---

5. भू विज्ञान- भू क्षेत्र

---

6. भू विज्ञान- ऋतुएँ

---

7. महाद्वीप

---

8. यह कहाँ है?

---

9. चुनो और रंग भरो - विलुप्तप्राय जानवर

---

10. चुनो और लिखो - पौधों का वर्गीकरण

---

11. विभिन्न जानवरों की त्वचा

---

12. काटो और चिपकाओ - पक्षी के अंग

---

13. चुनो और गोला लगाओ

---

14. क्या आप यह कर सकते हो

---

15. वर्ग पहेली

---

16. चुनो और लिखो - पृथ्वी

---

17. चुनो और लिखो - महाद्वीप और समुद्र

---

18. चुनो और लिखो - पृथ्वी

---

19. चुनो और लिखो

---

20. चुनो और लिखो



# देशों के राष्ट्रीय ध्वज


देशों के ध्वज को पहचानो और नीचे दिए गए स्थान पर उनका नाम लिखो।



INDIA



AUSTRALIA




AUSTRIA



BANGLADESH



BELGIUM




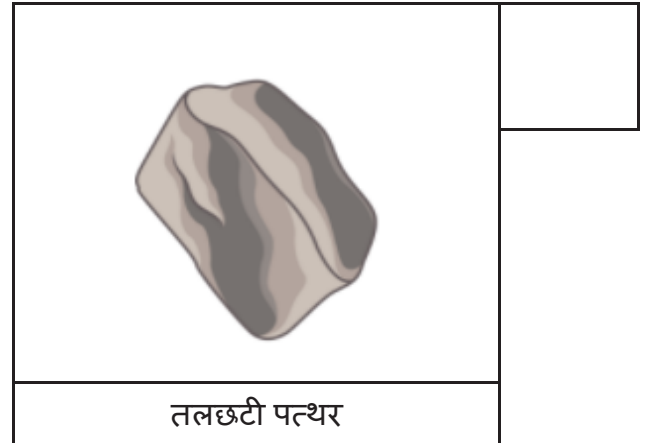
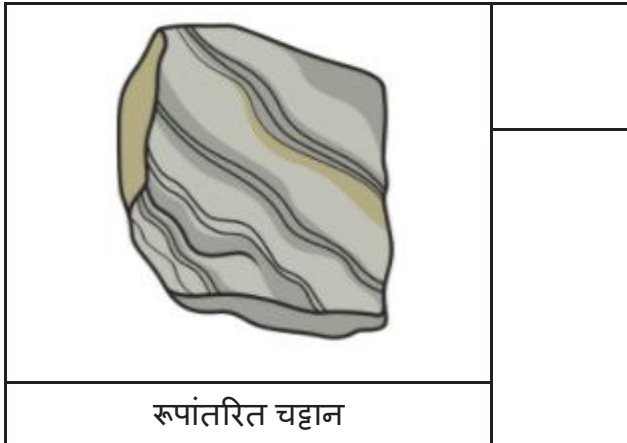
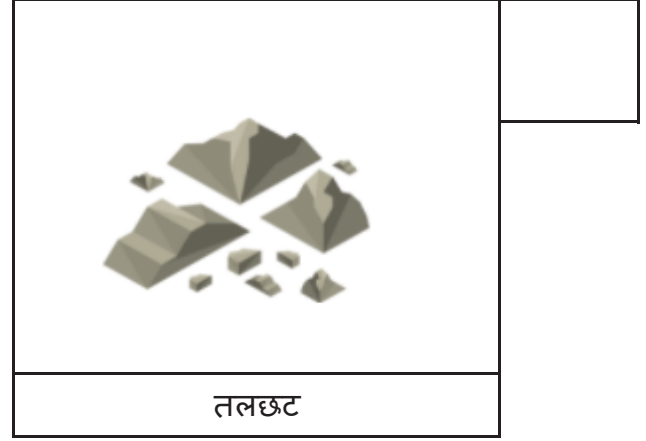

BAHRAIN



# एस: पृथ्वी विज्ञान - समन्वय प्रणाली



Rocks are always changing with time. The rock cycle is a process by which rocks of one type changes into the rocks of another kind. Mark the different stages of rock cycle to put them in sequence.



उत्तर केंची: 1. ज्वालामुखी विस्फोट, 2. आग्नेय चट्टान, 3. तलछट, 4. तलछटी चट्टान, 5. रूपांतरित चट्टान, 6. मेग्मा

# एस: पृथ्वी विज्ञान - भूकंप



पृथ्वी की सतह के नीचे चट्टान के द्रव्यमान परिवर्तन की स्थिति में होने वाली जमीन का अचानक हिलना भूकंप कहलाता है। नीचे दिए गए ग्रिड में भूकंप से संबंधित शब्द खोजें। शब्द क्षैतिज, लंबवत और तिरछे छिपे हुए हैं।

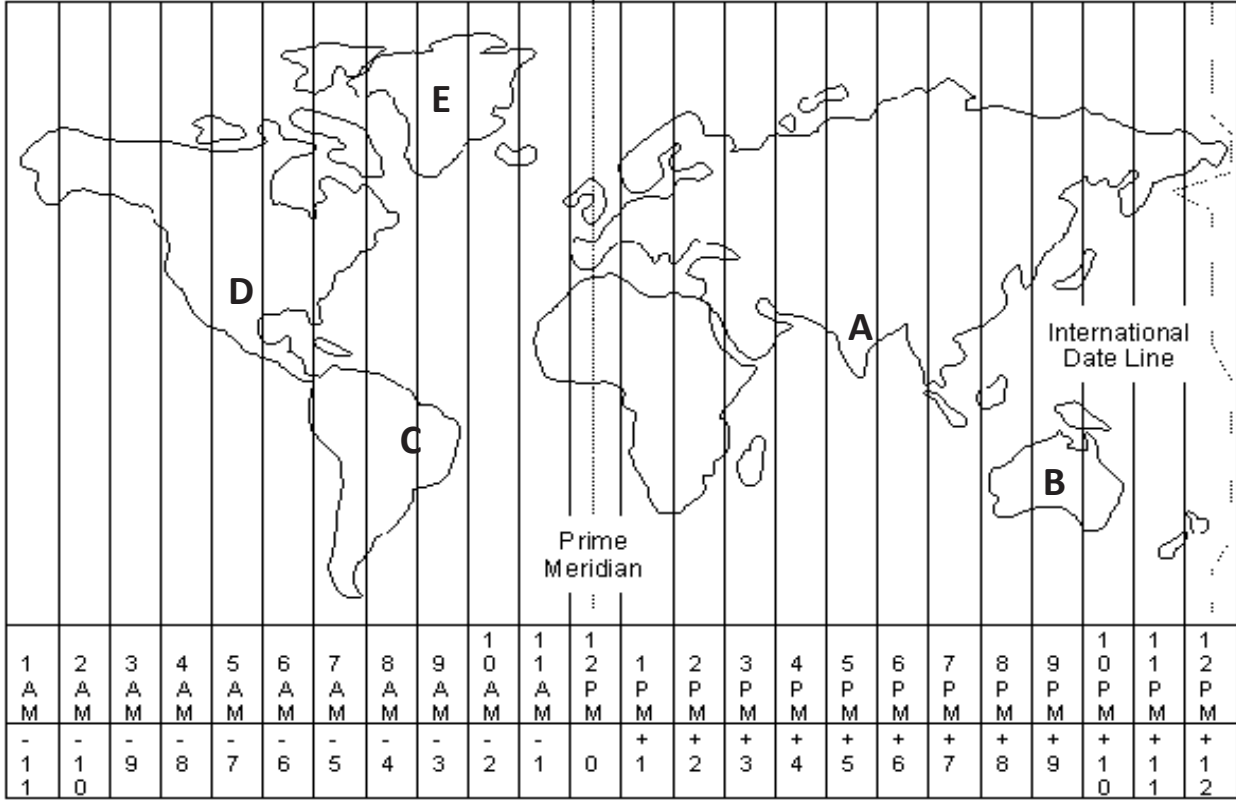
s	h	a	k	i	n	g	c	o	o	r	d	i	n	a	t	e	i
t	s	u	n	a	m	i	l	m	a	g	n	i	t	u	d	e	k
p	f	a	u	l	t	a	c	o	m	p	r	e	s	s	i	o	n
m	e	n	e	r	g	y	s	v	t	a	b	a	q	w	u	s	k
p	o	i	u	y	i	r	t	t	w	i	r	s	d	f	g	h	d
a	s	e	i	s	m	o	g	r	a	p	h	a	w	q	r	y	a
g	h	y	s	v	b	e	u	w	n	a	z	u	l	e	w	s	m
m	n	g	o	r	e	e	a	r	t	h	q	u	a	k	e	i	a
p	t	e	c	t	o	n	i	c	p	l	a	t	e	s	e	h	g
a	s	d	s	e	i	s	m	i	c	w	a	v	e	s	r	l	e
a	f	t	e	r	s	h	o	c	k	h	a	s	s	f	g	h	s
m	n	g	t	r	e	s	p	r	o	t	e	c	t	t	o	r	k
t	e	n	s	i	o	n	e	a	p	q	a	s	d	f	e	h	m

- |             |          |             |                 |
|-------------|----------|-------------|-----------------|
| magnitude   | friction | damage      | tectonic plates |
| tension     | protect  | fault       | seismic waves   |
| compression | shaking  | aftershock  | earthquake      |
| energy      | tsunami  | seismograph |                 |

# एस: पृथ्वी विज्ञान - समय क्षेत्र



पृथ्वी को 24 अलग-अलग समय क्षेत्रों में बांटा गया है। प्रत्येक क्षेत्र एक ऐसा क्षेत्र है जिसमें एक समान मानक समय मनाया जाता है। पूर्व की ओर बढ़ते हुए, प्रत्येक समय क्षेत्र के लिए एक घंटा जोड़ें। पश्चिम की ओर बढ़ते हुए, प्रत्येक समय क्षेत्र के लिए एक घटाएं। मानचित्र पर अंकित देशों की पहचान करें। यदि प्रातः 9:00 बजे हैं तो चिन्हित देशों का समय लिखिए।



देश का नाम

समय

A \_\_\_\_\_

\_\_\_\_\_

B \_\_\_\_\_

\_\_\_\_\_

C \_\_\_\_\_

\_\_\_\_\_

D \_\_\_\_\_

\_\_\_\_\_

E \_\_\_\_\_


\_\_\_\_\_

Answer Key: A India - 2:00 pm, B Australia - 6:00 pm, C Brazil - 5:00 am, D USA - 3:00 am, E Greenland - 6:00 am

# एस: पृथ्वी विज्ञान - अपक्षय



अपक्षय पृथ्वी की सतह पर चट्टानों और खनिजों का टूटना या घुलना है। नीचे दिए गए सुरागों का उपयोग करके अपक्षय से संबंधित वर्ग पहेली को हल करें।



## सामने

- वह प्रक्रिया जो चट्टान और अन्य सामग्री को तोड़ती है
- मिट्टी में गहरे रंग का कार्बनिक पदार्थ
- रासायनिक परिवर्तन जिसमें पदार्थ ऑक्साइड रस बनाते हैं
- सामग्री की विशेषताएं जो छोटे जुड़े हुए वायु स्थानों से भरी होती हैं
- वह प्रक्रिया जिसके द्वारा बर्फ, हवा, पानी और मिट्टी चट्टान को हिलाते हैं

## नीचे

- अन्य चट्टानों द्वारा चट्टानों को पीसना
- जैविक पदार्थों को तोड़ने वाले जीव
- ढीली अपक्षयित सामग्री जिसमें पौधे उग सकते हैं

उत्तर कुंजी: 1. क्षरण, 2. अपक्षय, 3. अपघटक, 4. अपक्षय, 5. धरण, 6. मिट्टी, 7. धरण, 8. अपक्षय

# एस: पृथ्वी विज्ञान - खनिज



खनिज हर जगह हैं! आप भोजन पर जो नमक छिड़कते हैं वह खनिज हलाइट है। गहनों में चांदी भी एक खनिज है। बेसबॉल चमगादड़ और साइकिल फ्रेम दोनों में खनिज होते हैं। नीचे शैल चक्र के चार खनिज स्रोत दिए गए हैं। प्रत्येक खनिज के उपयोग का वर्णन करते हुए दो वाक्य लिखिए।



सोना




तांबा




हीरा




फ्लोराइट


# ये कहाँ है?

रिक्त स्थान भरें और शब्द क्लाउड में उत्तर ढूँढ़ें



C	A	Z	C	C	W	L	J	M	A	U	L
L	A	A	U	S	T	R	A	L	I	A	X
M	T	F	U	J	C	O	K	T	D	N	T
M	K	E	R	W	C	N	L	H	J	M	C
A	R	J	L	I	A	C	F	A	Q	H	K
R	U	D	O	I	C	A	S	S	L	E	J
C	G	E	D	L	J	A	T	M	P	O	T
T	Q	N	H	C	C	D	V	O	T	Q	Y
I	I	A	C	I	T	C	R	A	T	N	A
C	X	N	R	O	H	U	Y	N	G	C	M
E	D	F	V	M	E	E	I	L	W	G	A
L	A	W	J	O	Q	S	Z	X	A	A	R

1. सहारा रेगिस्तान किस महाद्वीप में स्थित है .....
2. .... को सफेद महाद्वीप के रूप में भी जाना जाता है।
3. सबसे छोटा महाद्वीप जो एक द्वीप भी है.....
4. भारत के नाम वाला महासागर ..... महासागर है।
5. नील नदी में स्थित महाद्वीप .....
6. यूराल पर्वत द्वारा एशिया से अलग किया गया महाद्वीप ..... हा।
7. सबसे छोटा महासागर जो उत्तरी ध्रुव के पास जमा और स्थित है, ..... महासागर है।

## उत्तर:

1. अफ्रीका
2. अंटार्कटिका
3. ऑस्ट्रेलिया
4. भारतीय
5. अफ्रीका
6. यूरोप
7. आर्कटिक

# महाद्वीप

पृथ्वी 7 महाद्वीपों से बनी है जो अपनी भूमिको बड़े पैमाने पर निर्मित करते हैं।

कुछ द्वीप पानी से घिरे हैं विशालकाय/द्वैत्याकार की तरह

जबकि अन्य एक दूसरे से जुड़े हुए हैं और जिन्हें केवल एक काल्पनिक रेखा द्वारा अलग किया गया है ।

कुछ महाद्वीपों में बहुत सारे देश हैं, जबकि दूसरों के पास कुछही हैं।

क्या आपजिम शब्दोंमें छिपे 7 महाद्वीपों का पता लगा सकते हैं  
उन्हें नीचे दिए गए मैप परनाम दें?

S	D	W	A	F	R	I	C	A	N	F	H
W	O	Q	F	I	C	F	Q	S	O	G	C
X	Z	U	T	Q	F	K	A	G	R	F	V
X	R	F	T	F	U	M	A	A	T	E	M
D	T	R	W	H	U	G	I	P	H	U	B
T	D	E	N	K	A	L	R	A	A	R	K
G	S	D	B	Q	A	M	S	U	M	O	Z
B	Z	G	S	R	T	I	E	C	E	P	B
Z	Z	S	T	V	A	K	A	R	R	E	F
D	B	S	W	C	I	N	B	Y	I	E	C
N	U	Y	G	T	K	E	K	I	C	C	J
A	A	N	T	A	R	T	I	C	A	F	A



उत्तर:

उत्तरी अमेरिका

एशिया

यूरोप

दक्षिण अमेरिका

ऑस्ट्रेलिया

अफ्रीका

अंटार्कटिका



## चुने और लिखें



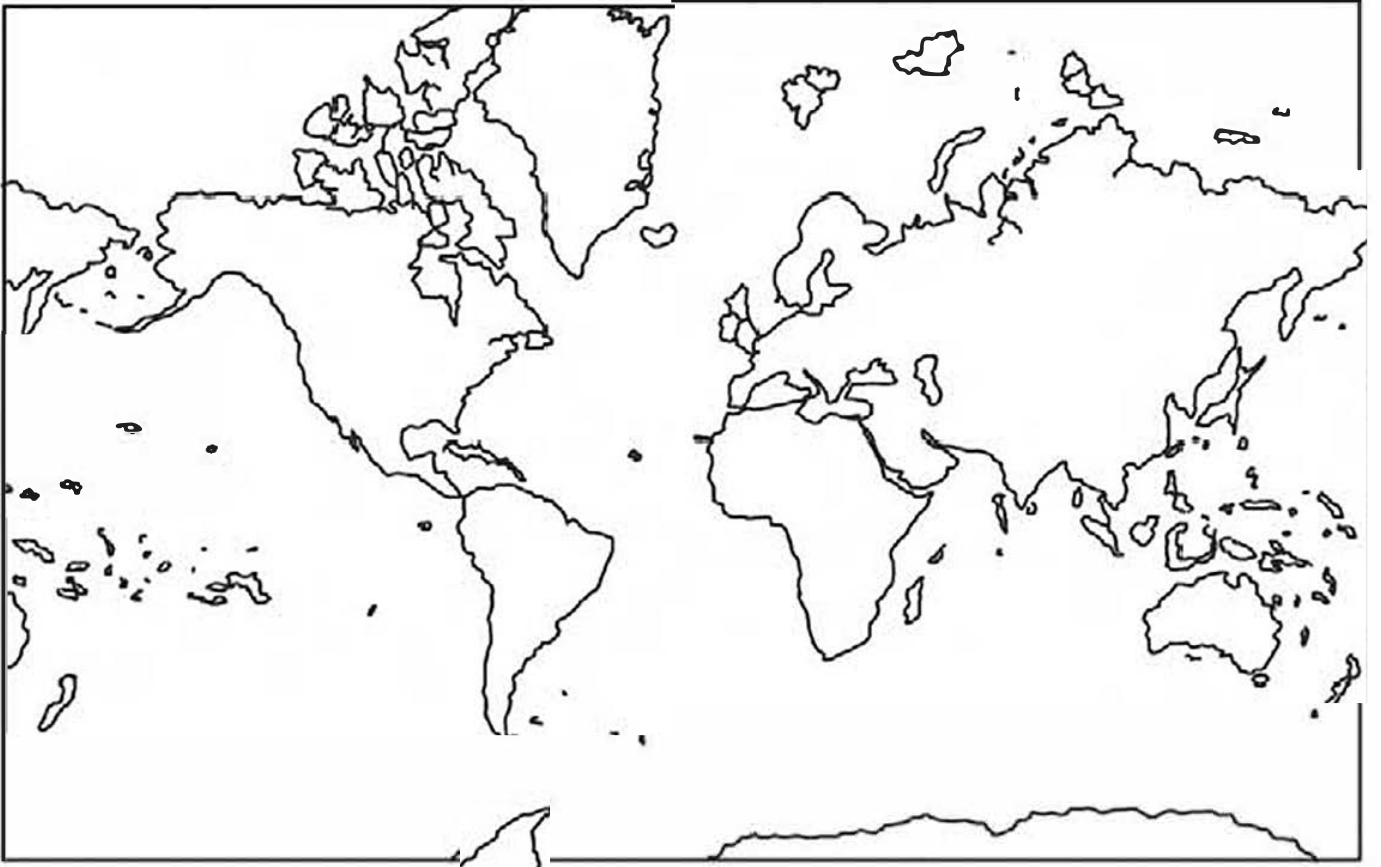
नक्शे में नीचे उल्लिखित महाद्वीपों और महासागरों को लेबल करें।

### संकेत

एशिया  
उत्तरी अमेरिका  
अंटार्कटिका  
हिंद महासागर

अफ्रीका  
दक्षिण अमेरिका  
प्रशांत महासागर  
दक्षिणी महासागर

यूरोप  
ऑस्ट्रेलिया  
आर्कटिक महासागर  
अटलांटिक महासागर





## चुने और लिखें



नीचे दी गई छवि को देखें और दिए गए प्रश्नों के उत्तर दें। मदद के लिए दिए गए शब्दों का प्रयोग करें।



The Western Hemisphere



The Eastern Hemisphere

- ए) \_\_\_\_\_ और \_\_\_\_\_ संयुक्त महाद्वीप हैं।
- बी) \_\_\_\_\_ गोलार्ध में \_\_\_\_\_ गोलार्ध की तुलना में अधिक भूमि है।
- सी) \_\_\_\_\_ दक्षिणी सबसे महाद्वीप है।
- डी) भूमध्य रेखा \_\_\_\_\_ के महाद्वीप को पार करती है।
- इ) \_\_\_\_\_ महासागर एशिया के दक्षिण में है।
- एफ) विश्व का सबसे ऊँचा जलप्रपात \_\_\_\_\_ जलप्रपात है।
- जी) हिंद महासागर \_\_\_\_\_ और अफ्रीका को अलग करता है।
- एच) यदि आप पश्चिम से \_\_\_\_\_ यात्रा करते हैं तो आप एशिया महाद्वीप तक पहुँच जाएंगे।

### संकेत

उत्तरी	उत्तरी अमेरिका	यूरोप	अफ्रीका	एशिया
दक्षिणी	भारतीय	अंटार्कटिका	एंजेल	ऑस्ट्रेलिया



## चुने और लिखें



1. सांकेतिक शब्दों का उपयोग करके रिक्त स्थान भरें।

### संकेत

मुख्य

रूप

जलमंडल

वायुमंडल

बायोस्फीयर

- ए) पृथ्वी की सबसे भीतरी परत को \_\_\_\_\_ कहा जाता है।
- बी) पृथ्वी पर पानी निरंतर \_\_\_\_\_।
- सी) पृथ्वी पर मौजूद पानी की कुल मात्रा को \_\_\_\_\_ कहा जाता है।
- डी) पृथ्वी के चारों ओर गैसों की परत को \_\_\_\_\_ कहा जाता है।
- इ) \_\_\_\_\_ वह वातावरण है जिसमें कोई जीवित वस्तु बढ़ती है।

2. कॉलम I में दिए गए कथनों का मिलान कॉलम II में संबंधित कथन से करें।

### कॉलम I

- ए) पपड़ी
- बी) कार्बन डाइऑक्साइड
- सी) जल वाष्प
- डी) ग्लेशियर
- इ) नाइट्रोजन

### कॉलम II

1. जलमंडल
2. तापमान बनाए रखता है
3. 78%
4. महासागर का तल
5. प्रकाश संश्लेषण



## चुने और लिखें



निम्नलिखित शब्दों का उपयोग करके चित्र को लेबल करें।

उत्तरी ध्रुव

दक्षिण ध्रुव

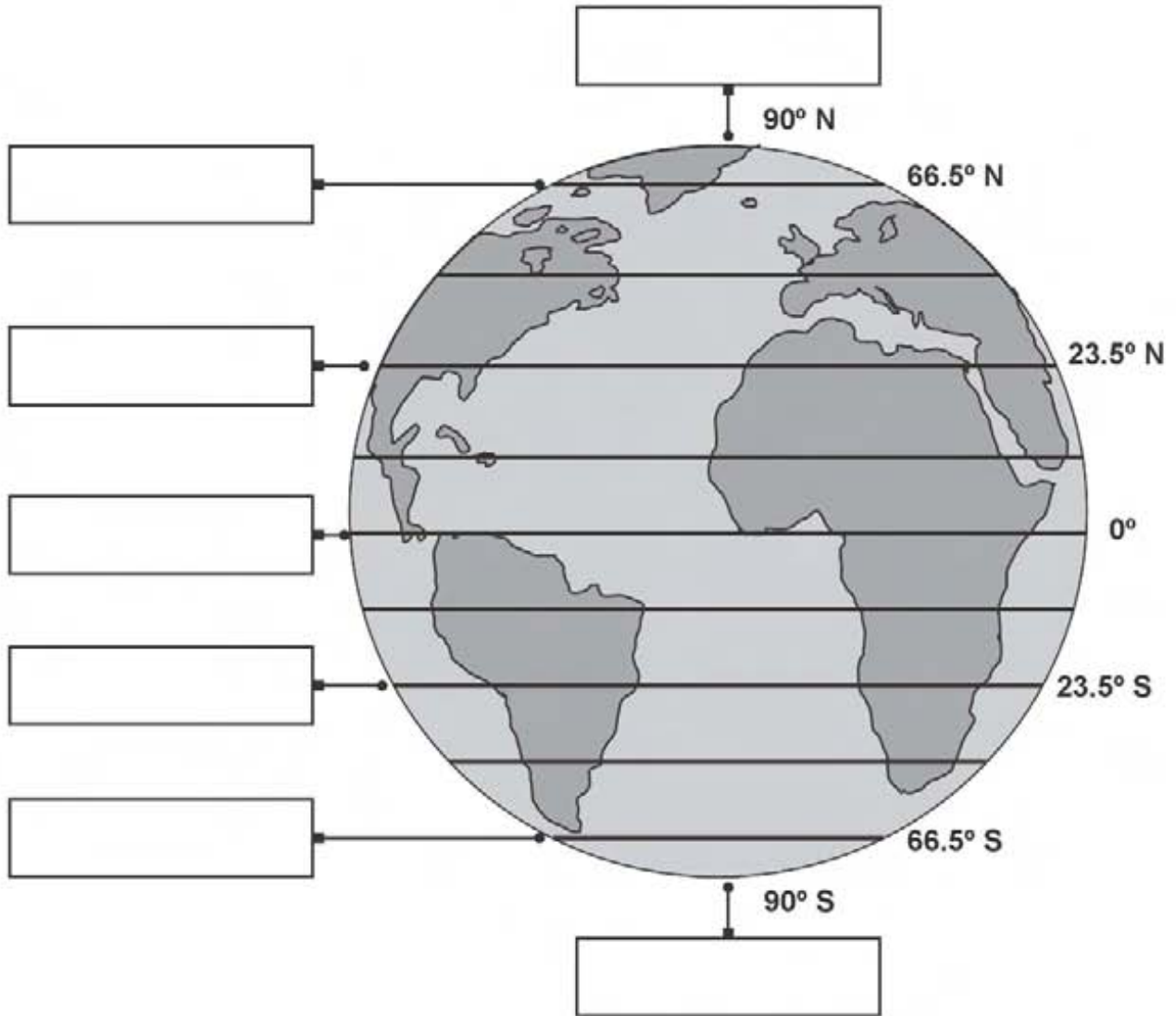
भूमध्य रेखा

कर्क रेखा

मकर रेखा

आर्कटिक वृत्त

अण्टार्कटिक वृत्त





## चुने और लिखें



1. सांकेतिक शब्दों का उपयोग करके रिक्त स्थान भरें।

### संकेत

कर्क रेखा      परिक्रमा      मौसम के      रोटेशन      वसंत      विषुव (इक्वीनॉक्स)

- ए) \_\_\_\_\_ सूर्य के चारों ओर पृथ्वी की गति है।  
बी) पृथ्वी के \_\_\_\_\_ के कारण दिन और रात होते हैं।  
सी) \_\_\_\_\_ पृथ्वी के अक्ष के झुकाव के कारण होता है।  
डी) 21 जून को, सूर्य की किरणें \_\_\_\_\_ पर लंबवत होती हैं।  
इ) पृथ्वी 21 मार्च को \_\_\_\_\_ का अनुभव करती है।

2. कॉलम I में दिए गए कथनों का मिलान कॉलम II में संबंधित कथन से करें।

### कॉलम I

- ए) सर्दी  
बी) 22 दिसंबर  
सी) शरत् विषुव (इक्वीनॉक्स)  
डी) 21 जून  
इ) परिक्रमा

### कॉलम II

1. कर्क रेखा  
2. मकर रेखा  
3. ऋतुएँ  
4. 23 सितंबर  
5. कम दिन



## शब्दों की खोज



दिए गए सुराग पढ़ें और शब्द की पहचान करें। अब ग्रिड में इन शब्दों को खोजें।

THERMOMETER	STRATOSPHERE	ATMOSPHERE	RAIN
TEMPERATURE	TROPOSPHERE	PRECIPITATION	CLIMATE

W	B	M	T	O	J	I	G	X	L	P	M	G	C	W	M	U	H	U	N	Z	Q	V	X	R
M	B	F	Q	L	H	H	U	M	I	D	I	T	Y	A	V	N	T	Z	C	J	Z	I	Q	V
U	V	Z	L	H	A	I	L	A	T	M	O	S	P	H	E	R	E	J	C	Q	A	Y	O	C
C	H	Q	B	N	Y	I	W	D	R	N	M	D	E	P	R	E	S	S	I	O	N	I	R	L
Y	L	J	G	R	U	G	E	W	A	N	T	I	C	Y	C	L	O	N	H	Q	J	D	W	I
T	Q	W	K	Q	I	T	R	O	P	O	S	P	H	E	R	E	C	J	R	X	Y	M	L	M
L	A	X	A	F	G	P	K	O	R	S	H	Q	B	A	R	O	M	E	T	E	R	W	U	A
A	C	M	B	B	H	N	S	P	M	C	H	L	R	A	G	A	I	S	N	O	W	R	G	T
J	H	X	K	Q	T	E	J	X	Z	E	P	L	U	V	I	O	M	E	T	E	R	M	R	E
U	T	V	O	D	K	B	D	W	E	A	T	H	E	R	Z	L	V	M	L	U	C	Y	A	A
T	E	M	P	E	R	A	T	U	R	E	B	E	A	N	E	M	O	M	E	T	E	R	I	E
V	A	T	M	O	S	P	H	E	R	I	C	P	R	E	S	S	U	R	E	X	R	V	N	R
W	I	N	D	V	A	N	E	C	K	R	V	H	R	W	P	A	W	R	B	H	Y	I	S	B
Y	X	R	G	R	P	S	C	E	E	X	F	S	T	R	A	T	O	S	P	H	E	R	E	O
M	I	P	R	E	C	I	P	I	T	A	T	I	O	N	Z	A	F	Y	X	U	E	X	B	A
H	U	E	B	G	N	Y	Z	Q	K	W	T	Y	Y	N	E	E	N	D	J	T	S	O	S	
Z	J	K	T	C	N	M	T	Z	S	V	Y	J	Z	T	H	E	R	M	O	M	E	T	E	R

1. यह इस बात का माप है कि वातावरण कितना गर्म या ठंडा है।
2. यह पानी है जो वायुमंडल से गिरता है।
3. यह वह उपकरण है जिसका उपयोग तापमान को मापने के लिए किया जाता है।
4. यह पृथ्वी की गैसीय परत है।
5. वायुमंडलीय जल वाष्प के संघनन का कोई भी उत्पाद जो बादलों से गुरुत्वाकर्षण के अंतर्गत आता है।
6. यह पृथ्वी से 50 किमी ऊपर है। इसमें ओजोन परत होती है।
7. यह 12 किमी से अधिक की पतली परत है और इसमें मौसम की सभी स्थितियाँ होती हैं।
8. यह एक विशिष्ट समय में एक स्थान पर वातावरण की स्थिति है।



## वर्ग पहेली




निम्नलिखित वाक्यों को पढ़ें और रिक्त स्थान भरें। इसके अलावा, नीचे दी गई पहेली को पूरा करें।

बाएं से दाएं:

1. माल या सेवाओं को बड़े पैमाने पर बेचने के लिए उत्पादन करना \_\_\_\_\_ गतिविधि कहलाता है।
4. विषुवतीय क्षेत्र \_\_\_\_\_ क्षेत्र में स्थित है।
6. सभी सदस्यों के साथ एक पौधे या पशु समूह में समान सामान्य विशेषताएं होती हैं जिन्हें \_\_\_\_\_ के रूप में जाना जाता है।

ऊपर से नीचे:

1. पत्तियों और शाखाओं का एक द्रव्यमान जो जमीन के ऊपर एक आवरण बनाता है, \_\_\_\_\_ कहलाता है।
2. सूर्य की किरणें सीधे \_\_\_\_\_ पर पड़ती हैं।
3. दक्षिणी घर्षण क्षेत्र में \_\_\_\_\_ का महाद्वीप शामिल है।
5. भूमध्यरेखीय क्षेत्र में एक गर्म और \_\_\_\_\_ जलवायु होती है।





## चुने और लिखें



1. सांकेतिक शब्दों का उपयोग करके रिक्त स्थान भरें।

### संकेत

किरगिज

मकर रेखा

हार्वेस्टर गठबंधन

उदारवादी

पंपास

दक्षिण अफ्रीका

अंटार्कटिक

गौचास

ए) समशीतोष्ण क्षेत्र दक्षिणी गोलार्ध में \_\_\_\_\_ और \_\_\_\_\_ के ट्रॉपिक के बीच स्थित है।

बी) घास के मैदानों को ऑस्ट्रेलिया में \_\_\_\_\_ कहा जाता है।

सी) वेल्ड \_\_\_\_\_ में स्थित घास के मैदान हैं।

डी) \_\_\_\_\_ जनजाति स्टेपीज में रहती है।

इ) अर्जेंटीना में काउबॉय को \_\_\_\_\_ कहा जाता है।

एफ) दक्षिण अमेरिका में घास के मैदानों को \_\_\_\_\_ के रूप में जाना जाता है।

जी) समशीतोष्ण घास के मैदानों की जलवायु \_\_\_\_\_ है।

एच) पराली में फसलों को काटने और पैक करने के लिए इस्तेमाल की जाने वाली मशीन को \_\_\_\_\_ कहा जाता है।



## शब्दों की खोज



नीचे दिए गए रिक्त स्थान में उत्तर लिखें और शब्दों को नीचे दी गयी ग्रिड में ढूँढ़ें।

ए) सबसे बड़ा महाद्वीप \_\_\_\_\_

बी) दुनिया का सबसे बड़ा गर्म रेगिस्तान \_\_\_\_\_

सी) दुनिया में सबसे लंबी महाद्वीपीय पर्वत श्रृंखला \_\_\_\_\_

डी) सफेद महाद्वीप \_\_\_\_\_


इ) सबसे छोटा महाद्वीप \_\_\_\_\_

एफ) सबसे बड़ा और सबसे गहरा महासागर \_\_\_\_\_

जी) वह महासागर जो लंबाई में ' ' के आकार का और संकीर्ण है \_\_\_\_\_

एच) वह महासागर जो ऑस्ट्रेलिया को अफ्रीका से अलग करता है \_\_\_\_\_


K	W	K	R	S	F	D	U	N	U	Y	A
J	I	A	N	D	E	S	A	L	O	C	N
T	N	E	Y	A	A	K	P	E	N	N	T
V	D	C	A	E	S	H	I	T	R	V	A
Z	I	N	T	N	I	J	Z	I	Y	S	R
W	A	I	L	S	A	V	U	H	G	F	C
Q	N	K	A	A	Q	X	A	W	E	D	T
K	D	Z	N	A	R	A	H	A	S	M	I
A	U	S	T	R	A	L	I	A	U	T	C
V	V	L	I	A	S	R	Q	W	N	O	A
X	I	V	C	O	B	R	T	S	H	E	N
I	A	L	P	A	C	I	F	I	C	O	W



## वर्ग पहेली



वर्ग पहेली हल करें।



बाएं से दाएं:

2. ध्वनि की तीव्रता मापने के लिए प्रयुक्त इकाई
4. पानी की बूंदें एक साथ मिलकर बनती हैं
6. पृथ्वी की सतह पर मौजूद पानी की कुल मात्रा
7. एक भयंकर तूफान जिसमें हवाएँ हलकों में चलती हैं।
8. सांस लेने के लिए पौधों और जानवरों द्वारा इस्तेमाल की जाने वाली गैस

ऊपर से नीचे:

1. पृथ्वी का वह भाग जहाँ जल, थल और वायु सहित जीवन मौजूद है।
3. वह प्रक्रिया जिसके द्वारा पानी अपने तरल रूप से गैसीय रूप में परिवर्तित होता है।
5. पृथ्वी के चारों ओर गैसों की परत।



## चुने और लिखें



नीचे दी गई सूची से शब्दों को चुनें और वाक्यों को पूरा करें।

अक्षांश	अक्ष	परिक्रमा	अण्डाकार	दीर्घवृत्त
ऑर्बिट	घूमना	परिक्रमा		

- ए) ये काल्पनिक रेखाएँ जो किसी मानचित्र या ग्लोब पर क्षेत्रिज रूप से चलती हैं, \_\_\_\_\_ कहलाती हैं।
- बी) एक काल्पनिक रेखा जिसके चारों ओर एक गोला घूमता है, जिसे \_\_\_\_\_ के रूप में जाना जाता है।
- सी) एक निश्चित पथ पर सूर्य के चारों ओर पृथ्वी की गति को \_\_\_\_\_ कहा जाता है।
- डी) सूर्य के चारों ओर पृथ्वी की कक्षा आकार में \_\_\_\_\_ है।
- इ) ग्लोब की सतह पर उत्तर से दक्षिण तक चलने वाली इन काल्पनिक रेखाओं को \_\_\_\_\_ कहा जाता है।
- एफ) पृथ्वी की अपनी धुरी पर घूमने वाली गति को \_\_\_\_\_ कहा जाता है।
- जी) एक आकाशीय पिंड द्वारा दूसरे के परिक्रमा करते समय लिए गए पथ को \_\_\_\_\_ कहा जाता है।
- एच) पृथ्वी का \_\_\_\_\_ मौसम, विषुव (इक्विनॉक्स) और अयनांत (सोलिस्टसेस) का कारण बनता है।



## क्या आप यह कर सकते हैं?



1. कॉलम I में दिए गए कथनों का मिलान कॉलम II में संबंधित कथन से करें।

### कॉलम I

1. भूमध्यरेखीय क्षेत्र
2. ध्रुवीय क्षेत्र
3. जलवायु
4. समुद्री हवा
5. विवरण

### कॉलम II

- ए) लंबे समय तक रहता है
- बी) समुद्र से जमीन की ओर चलती है
- सी) गर्म और सूखा
- डी) उन्मत्त क्षेत्र
- ई) धार क्षेत्र

2. सही कथन के लिए 1 और गलत के लिए 0 लिखें।

1. समुद्र किसी स्थान की जलवायु को निर्धारित करता है।
2. आर्द्रता वातावरण में मौजूद ऊष्मा की मात्रा है।
3. ऊंचाई में वृद्धि के साथ तापमान हमेशा घटता है।
4. भूमध्य रेखा के पास बहुत गर्म तापमान होता है।
5. अंटार्कटिका स्थायी रूप से बर्फ से ढका हुआ है।

\_\_\_\_\_

\_\_\_\_\_

\_\_\_\_\_

\_\_\_\_\_

\_\_\_\_\_